
 くるまが3だいとまっています。くるまが1だいふえるとちゅうしゃじょうのくるまはぜんぶでなんだいになりますか？




①  にかずをかいてしきをつくりましょう。 (20てん)

$$\begin{array}{c} 3 \\ \text{Truck} \end{array} + \begin{array}{c} 1 \\ \text{Truck} \end{array} = \begin{array}{c} \text{Truck} \end{array}$$

② こたえをかきましょう。 (20てん)




 ^{とらっく}あかいトラックが2だい、あおいトラックが4だいあります。トラックはぜんぶでなんだいありますか？ (かく15てん)

しき

こたえ

だい

 にもつを3つのせたトラックがはしっています。そのあとをにもつを4つのせたトラックがはしっています。にもつはぜんぶでいくつありますか？ (かく15てん)

しき

こたえ

つ

