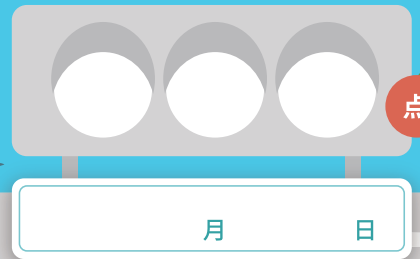





わりざん (1)



月 日



12 台のミニカーを 3 人で同じ数ずつ分けると、1 人分は何台ですか。

文中の にあてはまる言葉を書きましょう。(各 10 点)12 台のミニカーを 3 人で同じ数ずつ分けると、1 人分は  台になります。

これを式にすると

$$12 \div 3 = 4$$

と書き

「12 わる 3 は 4」と読みます。



次の問題の式と答えをもとめましょう。(式・答え各 10 点)


- ① 10 この荷物を 5 人で同じ数ずつはこぶとき、1 人がはこぶ荷物の数は何個ですか。

式

$$10 \div 5 = 2$$

答え

2こ



- ② 36 人のお客さんが 2 台のバスに同じ人数ずつ乗るとき、1 台のバスにのるお客さんの人数は何人ですか。

式

$$36 \div 2 = 18$$

答え

18人

- ③ 24 本のタイヤを 6 台の小型トラック「エルフ」に同じ数ずつ配るとき、1 台のタイヤの数は何本ですか。

式

$$24 \div 6 = 8$$

答え

8本

- ④ 40 本のタイヤを 5 台のトラック「ギガ」に同じ数ずつ配るとき、1 台のタイヤの数は何本ですか。

式

$$40 \div 5 = 8$$

答え

8本

